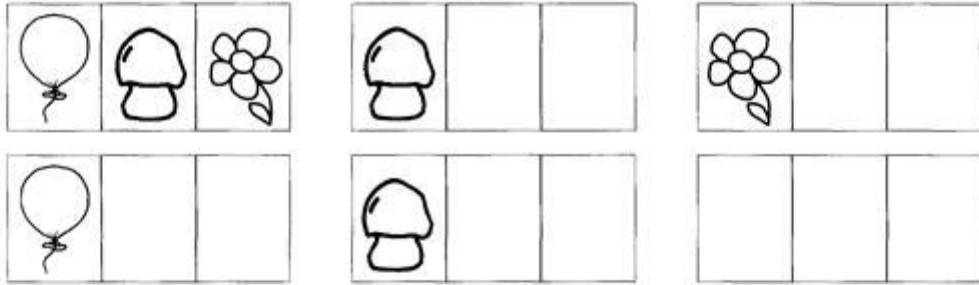
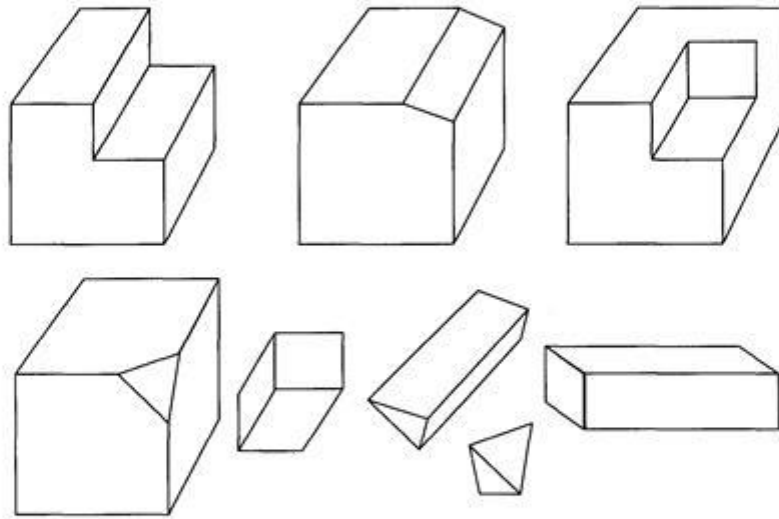




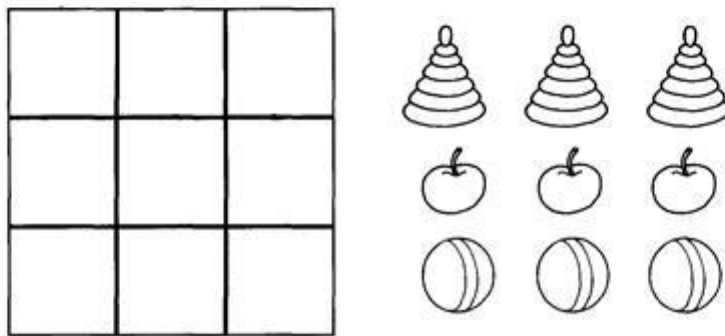
Постарайся расположить картинки разными способами.



Подбери к каждому кубику недостающий кусочек. Раскрась кубики и соответствующие кусочки в один цвет.



Расставь все предметы по квадратам так, чтобы в каждой строке и в каждом столбике был только один из них.





Поставь нужные знаки и реши примеры.

$$\begin{array}{r}
 3 \quad 5 \quad 6 = 2 \\
 10 \quad 8 \quad 4 = 6 \\
 7 \quad 3 \quad 1 = 5
 \end{array}$$



Соотнеси рисунки с названиями профессий. Напиши в клеточках соответствующие цифры.

Почтальон -

Парикмахер -

Пожарный -

Секретарь -

Электрик -

Маляр -

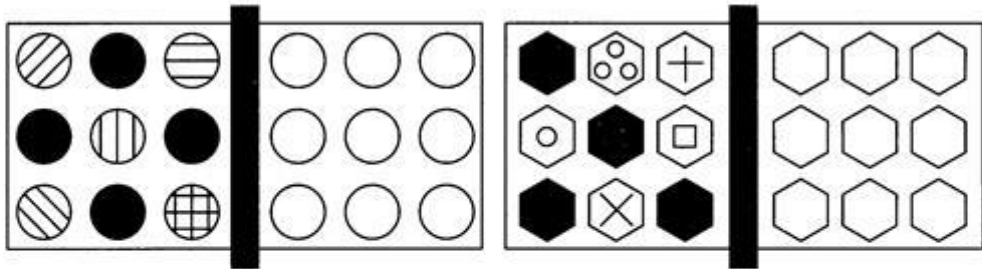
Врач -




Какая фигура в каждом ряду лишняя? Почему?



Дорисуй вторую половинку каждой фигурки в зеркальном отражении.



Найди закономерность и напиши недостающие цифры.



Как ты думаешь, какую фигуру нужно нарисовать в пустой клетке?

