

Математика – путь к развитию мышления. Математика для ребёнка – это дверь в мир логики, знаков, символов.


Что такое дискалькулия?

Дискалькулия – комплекс нарушений понимания логики математических действий, закономерностей преобразования чисел и их соотношений, непонимание условий задач.

Симптомы дискалькулии можно объединить в следующие группы:

- Ошибки в назывании чисел.
- Запоминание порядка следования чисел без понимания их значений.
- Затруднения с определением места числа среди остальных чисел.
- Недостаточное знание математической терминологии.
- Сложности в разложении числа на слагаемые.
- Невозможность распределить числа по закономерности больше-меньше.
- Ошибки в написании чисел.
- Выполнение только элементарных арифметических операций, причём исключительно путём ручного счёта.
- Мыслительные процессы предельно конкретны, задачи воспринимаются только при наличии предметного условия.
- Затруднения при выполнении последовательных арифметических действий.
- Значительные сложности или полная невозможность выполнения действий со сложными числами.

Коррекционные упражнения



ВРЕМЯ

? Отгадай загадку. Подпиши дни недели.



✎ Ответь на вопросы с помощью стрелочек.

- Если сегодня среда, то какой день был вчера? А какой будет завтра?
- Если вчера было воскресенье, то сегодня..., а завтра наступит
- За пятницей идет... , а перед ней... .
- Выходные наступают в... , а заканчиваются в... .

Понедельник
Вторник
Среда
Четверг
Пятница
Суббота
Воскресенье

ДНИ НЕДЕЛИ

Какие цифры написаны неправильно. Напиши рядом правильно.

1		2		3	
4		5		6	
7		8		9	

Раскрась “соседей” у числа три синим цветом, у числа шесть - красным.

1	2	3	4	5	6	7	8
---	---	---	---	---	---	---	---

Раскрась “соседей” у числа два зеленым цветом, у числа пять - желтым.

1	2	3	4	5	6	7	8
---	---	---	---	---	---	---	---

Вставь пропущенные числа.

1			4		6	7		9	10
---	--	--	---	--	---	---	--	---	----

		3	4				8		
--	--	---	---	--	--	--	---	--	--

10		8		6		4		2	
----	--	---	--	---	--	---	--	---	--

	9	8			5				1
--	---	---	--	--	---	--	--	--	---

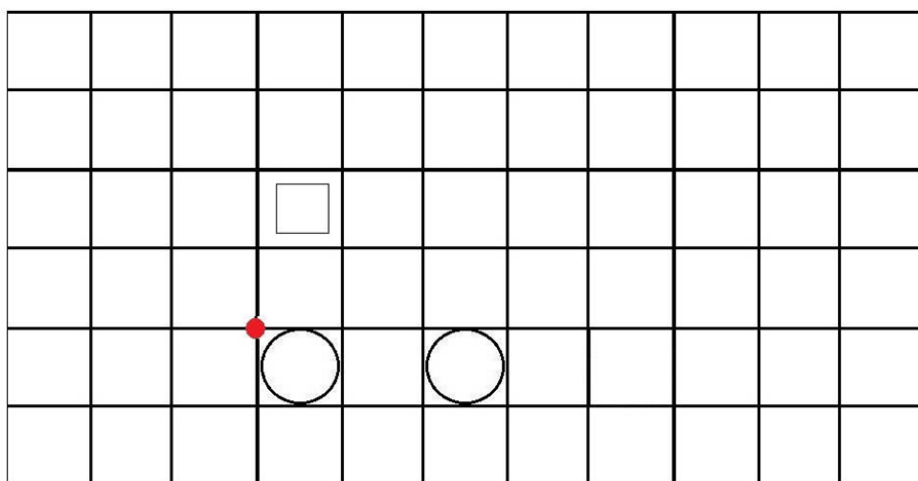
Графический диктант.

Считай клеточки и рисуй, не отрывая карандаш от бумаги.


От красной точки:

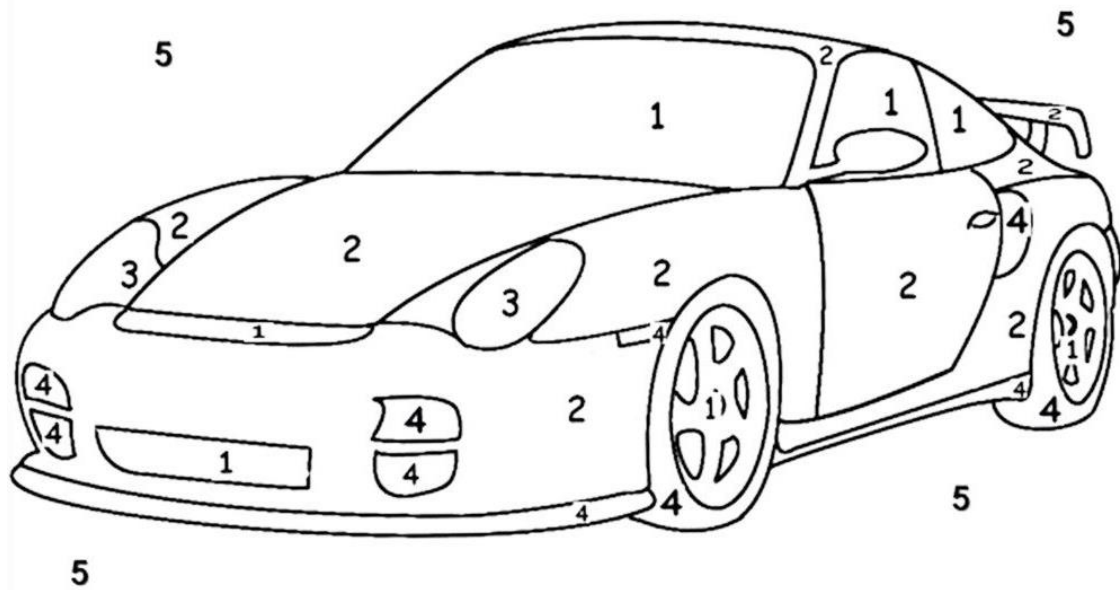
- 1 клеточка влево
- 1 вверх
- 1 вправо
- 1 вверх
- 1 вправо
- 1 вниз
- 3 вправо
- 1 вниз
- 4 влево

Что у тебя получилось? Раскрась картинку.




Соедини цифры по порядку.





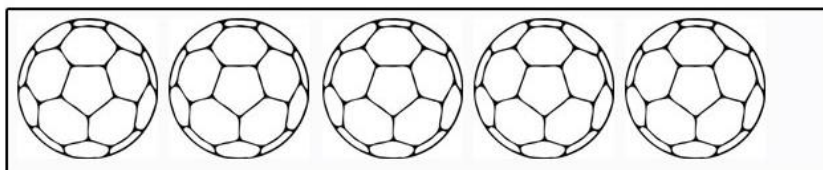
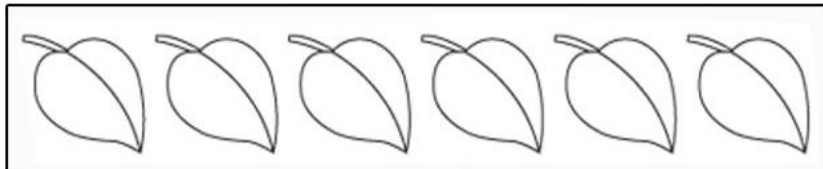

Раскрась по цифрам:

1-фиолетовый 3-желтый 5-голубой
2-красный 4-черный


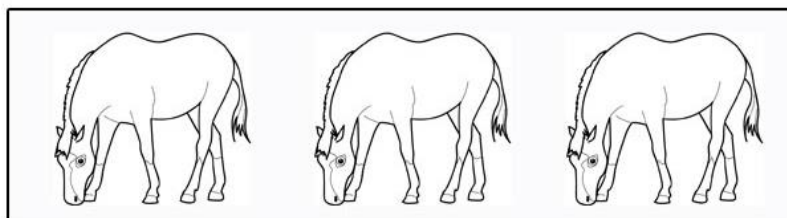




5 – красный
4 – коричневый
6 – желтый

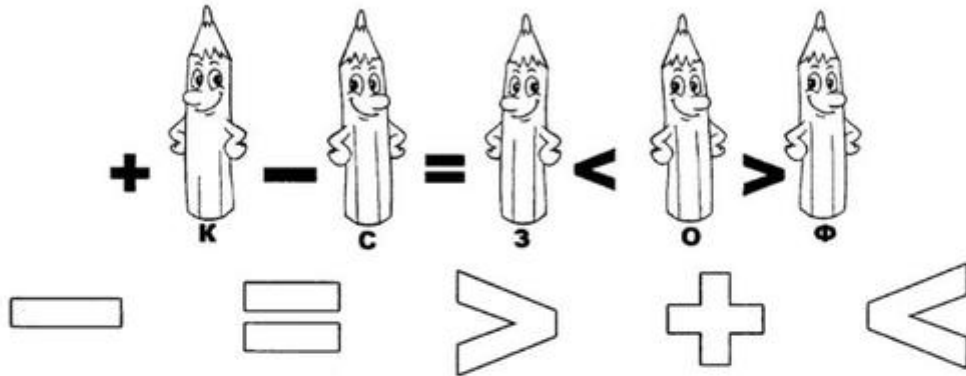
Соедини с цифрой и раскрась.



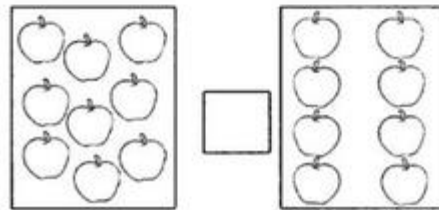
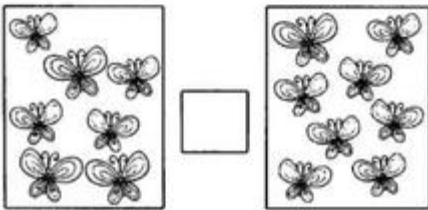

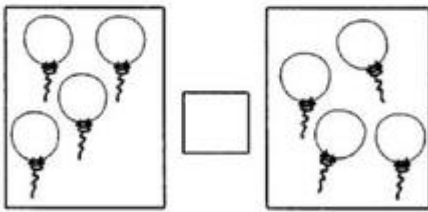
Посчитай предметы на картинках и напиши число в пустой квадратик.





Помоги  правильно закрасить математи- 
ческие знаки.



Напиши знаки «=», «>», «<». Острый конец показывает
меньшее число.



Вставь пропущенные знаки .

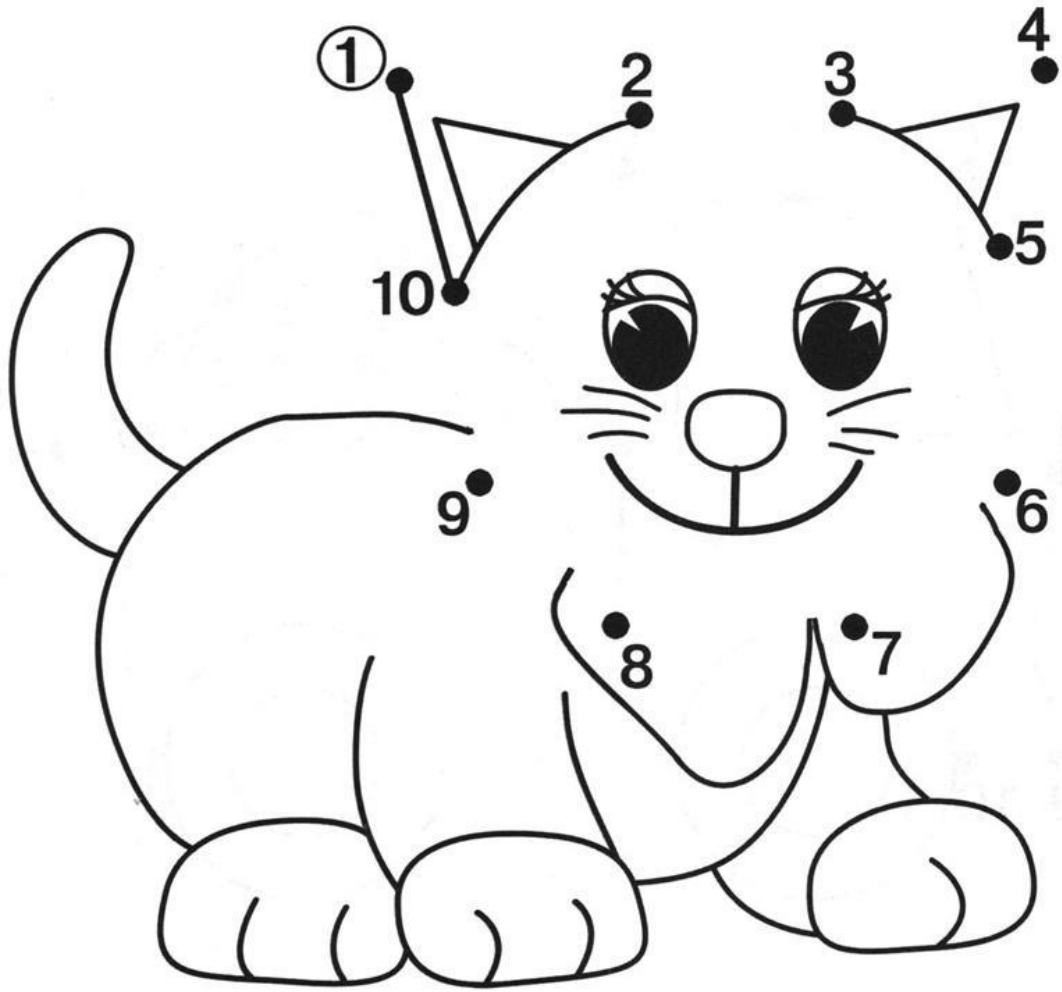


$$\boxed{7} \bigcirc \boxed{2} = \boxed{5}$$


$$\boxed{1} \oplus \boxed{8} \bigcirc \boxed{9}$$

$$\boxed{3} \bigcirc \boxed{3} = \boxed{6}$$

$$\boxed{5} \bigcirc \boxed{1} = \boxed{4}$$




Соедини картинку с правильным ответом, раскрась картинки.




$$5+4$$



$$3+2$$



$$5+3$$




















$$5+2$$



$$6+2$$

К каким яблокам ползут гусеницы?



6				
+2		-4		+3



-1



	+3		-5		+2
--	----	--	----	--	----




-1




	+2
--	----



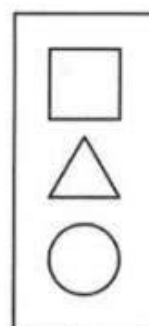
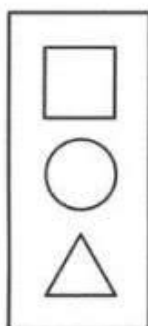
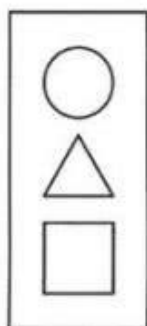
-1



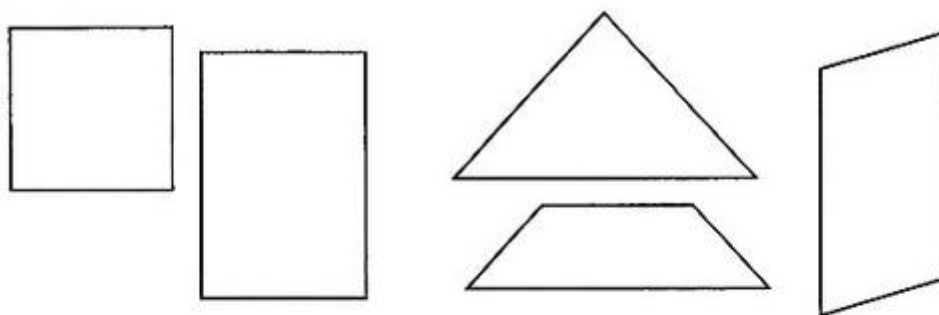
Рассмотри картинку. Кто на карусели выше всех? Раскрась его корзинку в зелёный цвет. Кто ниже всех? Раскрась в красный. Кто между зайцем и белкой? Раскрась корзинку в жёлтый. Кто между кошкой и лягушкой? Раскрась корзинку в синий. Расскажи, где находятся остальные зверята.



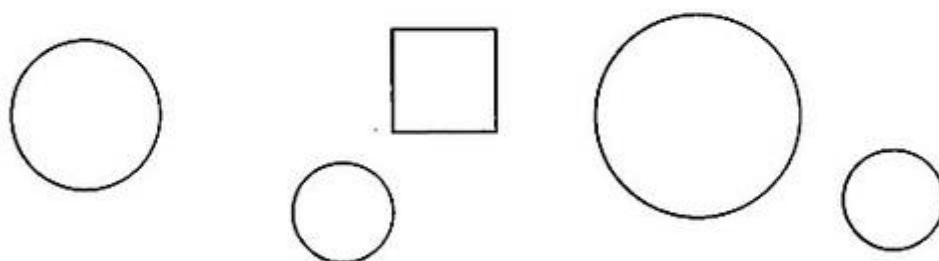
Покажи рисунок, где круг под треугольником; где квадрат над кругом; треугольник под квадратом; круг над треугольником. Раскрась одинаковые фигуры в один цвет.



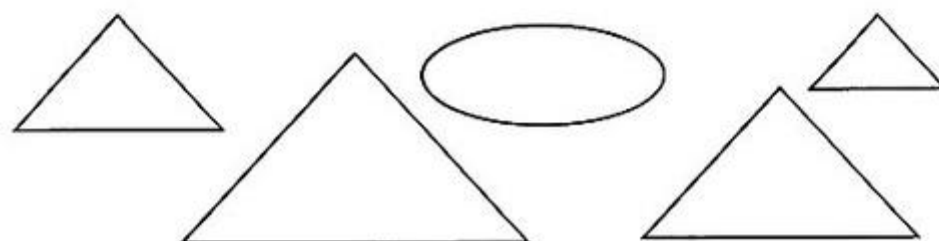
Закрась лишнюю фигуру.




Закрась лишнюю фигуру.




Закрась лишнюю фигуру.



Запиши недостающие числа в домиках.




9 Составь задачу по рисунку и реши её.



--	--	--	--	--	--



10 Составь задачу по рисунку и реши её.



--	--	--	--	--	--




Б л о к 2 ---

1 Составь задачу по краткому условию.
Реши её.




Было — 

Приехали — 

Стало — ?

--	--	--	--	--	--

Дорисуй цифры.



Выложи столько кругов, сколько я хлопну в ладоши

